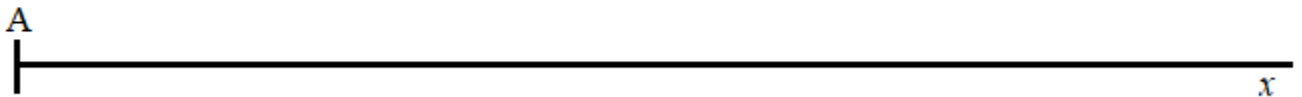
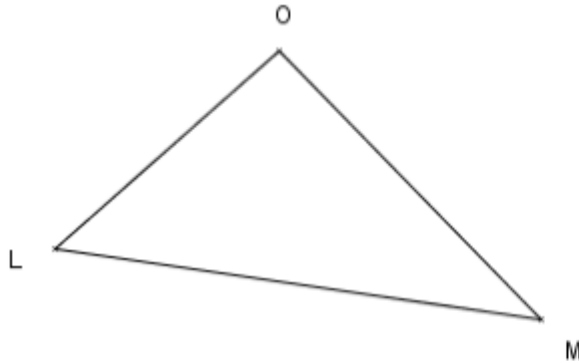


Nom: \_\_\_\_\_

**exercice 1:** cahier d'exercices pour vendredi 20 octobre \_\_\_\_\_ **Géométrie, chapitre 2** / 6

Place le point B sur la demi-droite [Ax) pour que sa longueur AB soit égale au périmètre du triangle LMO.

( En utilisant le compas )

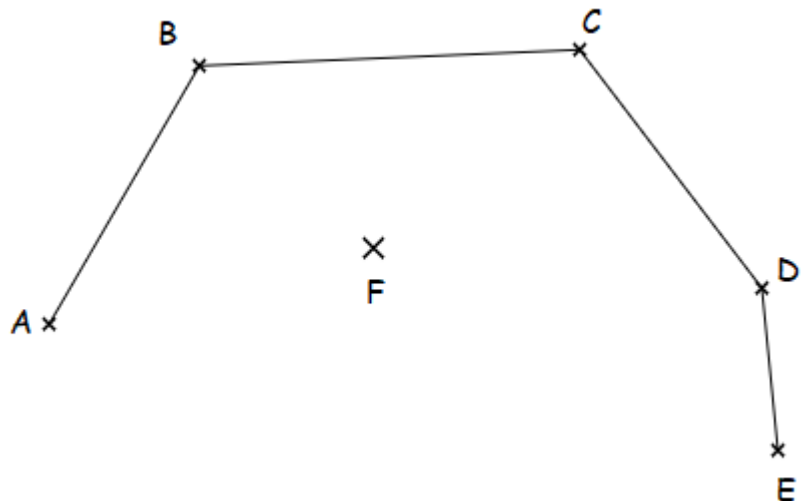
**exercice 2:** cahier d'exercices pour lundi 06 novembre \_\_\_\_\_ **Géométrie, chapitre 3** / 6

a. Tracer la droite (d1) perpendiculaire à la droite (AB) passant par le point F.

b. Tracer la droite (d2) perpendiculaire à la droite (BC) passant par le point F.

c. Tracer la droite (d3) perpendiculaire à la droite (CD) passant par le point F.

d. Tracer la droite (d4) perpendiculaire à la droite (DE) passant par le point F.

**exercice 3:** cahier d'exercices pour lundi 06 novembre \_\_\_\_\_ / 6