


Nom: \_\_\_\_\_

**exercice 1:** cahier d'exercices pour lundi 02 décembre Page 14 / 6

Une entreprise a fabriqué 9260 jouets au mois de décembre.  
 Pour emballer ces jouets, l'entreprise achète des cartons pouvant contenir 8 jouets.

- a. Expliquer pourquoi** l'entreprise doit acheter 1158 cartons pour emballer tous les jouets *en utilisant une division.*




L'entreprise fait appel à un transporteur pour expédier les jouets.  
 Un camion peut transporter 23 cartons, et ne démarre que quand il est plein.

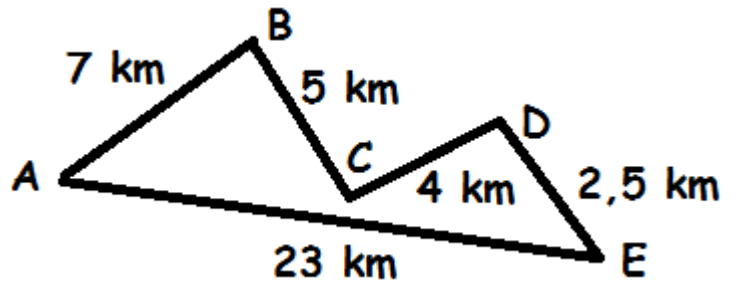
- b. Expliquer pourquoi** 8 cartons ne seront pas expédiés ce mois-ci *en utilisant une division.*

**exercice 2:** cahier d'exercices pour lundi 02 décembre Page 64 / 6

- a. Donne le périmètre** de la figure (F1)



- b. Calcule le périmètre** de la figure ABCDE



**exercice 3:** cahier d'exercices pour mardi 03 décembre DOCS / 6

Sylvia pense à un nombre entier, elle donne quatre indices.

**indice 1:** C'est un de ces nombres 1224120 ; 1142512 ; 956268 ; 275427 ou 2313,223

**indice 2:** Le nombre est un multiple de 4

**indice 3:** 10 n'est pas un diviseur du nombre

**indice 4:** Le nombre est un multiple de 3

- Quel nombre n'est pas un multiple de 4 ?
- Quel nombre est divisible par 10 ?
- Quel nombre n'est pas divisible par 3 ?
- Quel est le nombre mystère ?