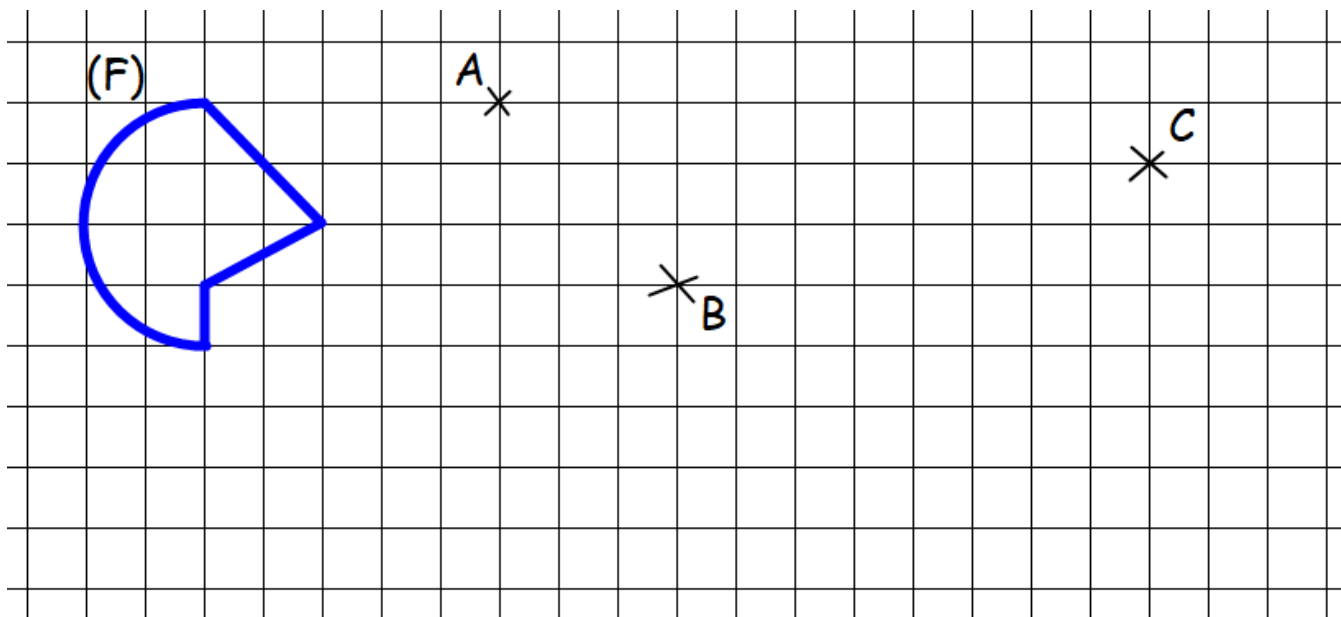


Nom: \_\_\_\_\_

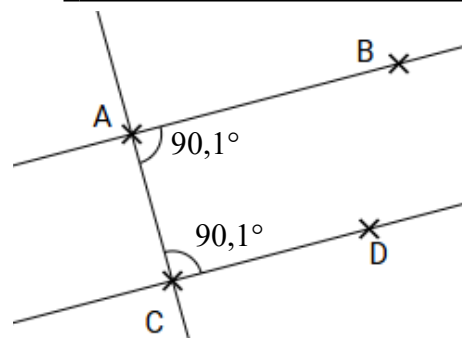
**exercice 1:** cahier d'exercices pour le jeudi 06 novembre

Page 62

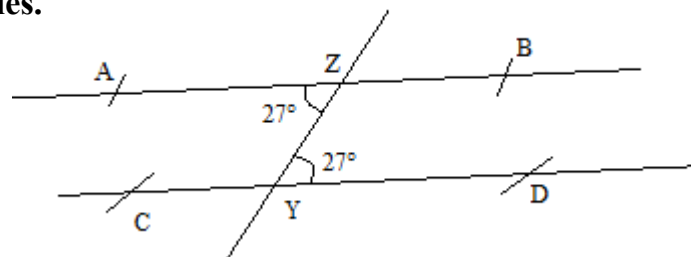
- a. Construire l'image (F1) de la figure (F) par la translation qui envoie A en B.  
 b. Construire l'image (F2) de la figure (F1) par la translation qui envoie B en C.

**exercice 2:** cahier d'exercices pour le vendredi 07 novembre

Peut-on démontrer que les droites (AB) et (CD) sont parallèles ?

**exercice 3:** cahier d'exercices pour le lundi 10 novembre

- a. Démontrer que les droites (AB) et (CD) sont parallèles.



- b. Démontrer que les droites (EF) et (GH) sont parallèles.

- c. Démontrer que les droites (EG) et (FH) sont parallèles.

